

05.05.2020r. Edukacja polonistyczna, matematyczna, przyrodnicza

Anna Sieroń

Blok tygodniowy: ŚWIAT NAS CIĄGŁE ZASKAKUJE. KRAJOBRAZY POLSKI. MNOŻENIE I DZIELENIE W ZAKRESIE 50.

Cele: Dzisiaj opiszecie swoją ulubioną zabawę. Poznacie spółgłoski, po których piszemy „rz”. Wyszukacie na ilustracji elementy, w których nazwach jest „rz” i je zapiszecie. Będziecie dobierać opisy do zdjęć krajobrazów. Wykonacie obliczenia na mnożenie i dzielenie.

Temat dnia: Opis zabawy

Witam w dniu „imienin miesiąca” – 05.05 (tak się mówi, gdy dzień miesiąca jest taki sam jak liczba przyporządkowana do miesiąca). Zaczynamy i pracujemy na 5!

Edukacja polonistyczna:

Przygotuj proszę przybory, zeszyt i ćwiczenia do języka polskiego. Podobnie jak wczoraj, dzisiaj też będziesz w krainie zabawy.

Twoja wyobraźnia jest niezwykle bogata ! Zawsze masz wiele pomysłów na świetną zabawę i potrafisz do niej zaprosić kolegów, koleżanki oraz zorganizować potrzebne Wam do niej przedmioty. Na dzisiejszej lekcji, spróbujesz swoich sił i postarasz się opisać jedną, ze swoich ulubionych zabaw. Co Ty na to ?


 Popracujemy w ćwiczeniach, dlatego proszę przygotuj je na stronie 72 :)

Przeczytaj polecenie pierwsze i wykonaj ilustracje do opisanych przez Ulę i Bartka zabaw :)

Jeśli gotowe, to zapraszam do ćwiczenia 2.


Pobudź swoją wyobraźnię i wykaż się pomysłowością w opisie ulubionej zabawy. Pamiętaj o tym, by w opisie zawrzeć nazwę, przedmioty, które będą Ci w niej niezbędne, miejsce oraz osoby, które do niej zaprosisz. W pracy pomogą ci pytania na które postaraj się odpowiedzieć dokładnie i całymi zdaniami. Dokonaj samooceny , zaznaczając odpowiednią buźkę na kolorowo ☺

Teraz przejdź na stronę 73, zanim przystąpisz do wykonania proponowanych zadań - przeczytaj ważną informację na żółtym polu :)

 Otwórz zeszyt, zapisz datę i temat: **Wyrazy z „rz” po spółgłoskach.**

- ♣ Pod tematem przepisz regułę do zapamiętania: ćw.3 - oraz napisz wyrazy, elementy ilustracji, które zawierają literę "rz" - **kwadracik** .

To ważne ćwiczenia utrwalające zasadę pisowni „rz” po spółgłoskach. Zapamiętaj , po których spółgłoskach napiszesz „rz”! Jeśli utrwalisz tą zasadę ortograficzną, to dyktanda napiszesz na 6!


-  Wykonaj jeszcze ćwiczenie 4 i 5 na stronie 73 i ciesz się zasłużoną przerwą! :)

Edukacja matematyczna

Zapraszam na lekcję matematyki. Zaczynamy?

Przygotuj proszę podręcznik, zeszyt, ćwiczenia oraz "liczę".

Wczoraj rozpoczęliśmy przygodę z tabliczką mnożenia w zakresie 50, jak sobie poradziście z obliczeniami? Pamiętajcie - ćwiczenie czyni Mistrza i każdy z Was nim zostanie, prędzej czy później!

-  Otwórz zeszyt, zapisz temat lekcji oraz działania


Temat: **Dzielenie odwrotnością mnożenia.**


$$35 : 7 = 5 , \text{ bo } 5 \times 7 = 35$$

$$42 : 6 = 7 , \text{ bo } 7 \times 6 = 42$$

$$56 : 8 = 7 , \text{ bo } 7 \times 8 = 56$$

$$32 : 4 = 8 , \text{ bo } 8 \times 4 = 32$$

 Teraz otwórz podręcznik na stronie 43 i bierz się do pracy :)

-  Przeczytaj zadanie 1, pomyśl nad rozwiązaniem, a następnie zapisz obliczenia w zeszycie. Pamiętaj o udzieleniu odpowiedzi !

Poniżej narysuj obrazki i zapisz obliczenia do zad.2 **kwadracik**, p. s.43

Podręcznik i zeszyt możesz odłożyć. Zapraszam do pracy w ćwiczeniach, potem "liczę" i matematyka za Tobą!

-  Przygotuj ćwiczenia na stronie 42 i wykonaj zadanie 1, 2 i 3.

Do zapamiętania powiedzenie :

Gdy gruszka dojrzeje trzeba ją zjeść , bo 7 x 8 jest 56.

Czy zasłużyłeś dzisiaj na 5 przy imieninach miesiąca? Mam nadzieje ,że TAK.

Dla chętnych!

Otwórz "liczę" na stronie 58 - 59 i wykonaj proponowane zadania

Edukacja przyrodnicza

Przygotuj proszę podręcznik, ćwiczenia, zeszyt, piórniki oraz kredki :)

Na początek zapraszam Cię do obejrzenia krótkiego filmu, który pozwoli Ci przypomnieć najważniejsze cechy omówionych krajobrazów oraz informacji o mapie Naszej pięknej Polski :)

https://www.youtube.com/watch?v=fTAKRwHG09I&feature=emb_logo

📖 Otwórz podręcznik mat. – przyr. s. 40 – 41. Rozpoznaj rodzaje krajobrazów?
Wskaż opisy pasujące do zdjęć – zad. 1 s. 40

Teraz spójrz na mapę Polski s. 41 i odczytaj głośno nazwy geograficzne. Wiem - dobrze ci poszło, przeczytałeś(łaś) nazwy miast, nizin, pojezierzy, wyżyn i gór.

- ♣ Przyjrzyj się uważnie, jaki kolor przeważa na terenie naszego kraju?
- ✓ Zgadza się – **zielony**. Kolor zielony na mapie fizycznej, czyli z zaznaczonymi krainami geograficznymi, ukształtowaniem jakiegoś obszaru – oznacza **niziny**.
- ✓ Kolor **żółty** oznacza – **wyżyny**, obejmuje południowo – wschodnią część Polski.
- ✓ Kolor **czerwony** oznacza – **góry**, zajmują one głównie południową część Polski

✍ W zeszycie w kratkę zapisz temat:

Temat: **Krajobrazy Polski.**

✍ Pod tematem narysuj kolorowe kwadraciki i napisz obok oznaczenia – tak, jak w podręczniku na s. 41 poniżej mapy Polski. Zapamiętaj oznaczenia tych kolorów.

✍ Nie chowaj kredek, będą ci potrzebne do ćw. 1 z kwadracikiem s.40- ćw. mat. – przyr.

Udało się? Super! To wszystko na dziś! Do zobaczenia jutro!